

1 Reken uit.

Zet de getallen onder elkaar.


a	b	c	d
$756 - 439 =$	$4537 - 2386 =$	$3425 - 2418 =$	$6367 - 4434 =$
$882 - 338 =$	$2657 - 1465 =$	$4635 - 2327 =$	$4382 - 2365 =$
$2345 - 1227 =$	$3847 - 1903 =$	$3543 - 1481 =$	$5532 - 2642 =$
$3684 - 2328 =$	$3566 - 1935 =$	$4828 - 2786 =$	$7346 - 1086 =$

2 Hoeveel kinderen zijn het?

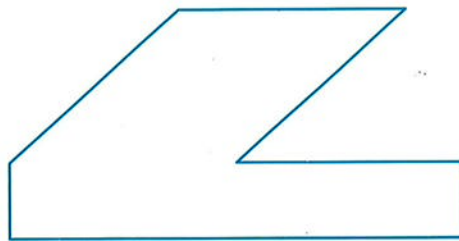
- a** Op basisschool De Buut zitten 356 kinderen.
Aan het eind van het schooljaar gaan 128 kinderen een dag op stap.
Hoeveel kinderen blijven er op school?
- b** In Bosdorp gaan 281 kinderen nog niet naar school.
Er wonen 827 kinderen.
Hoeveel kinderen gaan er wel naar school?
- c** Aan het begin van het jaar zitten er 297 kinderen op basisschool De Roos.
Aan het eind van het jaar zijn dat er 335.
Hoeveel kinderen zijn erbij gekomen?

**3 Meet en teken.**

1



2



- a** Meet de omtrek van deze figuren.
- b** Teken de vorm van figuur 1 na..Zorg nu dat de omtrek 7 cm is.
- c** Teken een driehoek met een omtrek van 18 centimeter.

1 Vergelijk de weekoverzichten van taxibedrijf Rij zuinig.

week 21
Vervoerslijst per week
Taxibedrijf
Rij zuinig
aantal passagiers
2569

week 22
Vervoerslijst per week
Taxibedrijf
Rij zuinig
aantal passagiers
1750

week 23
Vervoerslijst per week
Taxibedrijf
Rij zuinig
aantal passagiers
2178

week 24
Vervoerslijst per week
Taxibedrijf
Rij zuinig
aantal passagiers
2628

- a) Hoe groot is het verschil in aantal passagiers tussen week 21 en week 22? _____
- b) Hoe groot is het verschil in aantal passagiers tussen week 22 en week 23? _____
- c) Hoe groot is het verschil in aantal passagiers tussen week 23 en week 24? _____
- d) Hoe groot is het kleinste en grootste verschil in passagiers? _____
- e) Hoeveel taxi's waren er in week 24 nodig, als er steeds 4 mensen in 1 taxi gaan? _____

2 Reken uit zonder hulpsommen.

Van rechts naar links.

a

6	3	7	
5	4	3	-

b

8	6	3	
2	3	9	-

c

2	2	4	3	
1	5	2	1	-

d

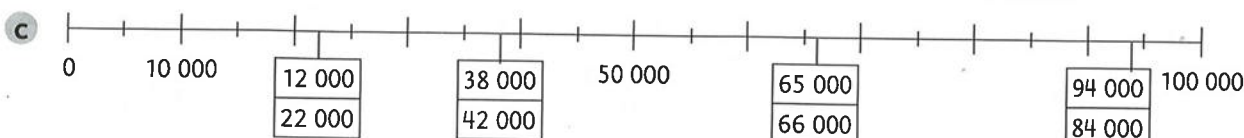
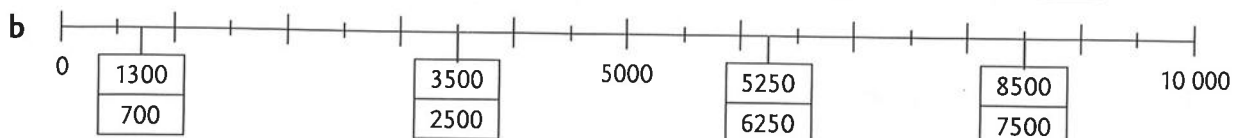
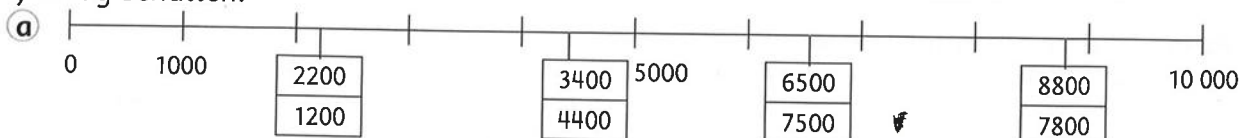
2	4	3	1	
2	4	2	9	-

e

7	4	6	2	
2	5	1	7	-

3 Kleur op elk kaartje het goede getal.

Je mag schatten.



Eerst proberen

Schrijf de stam van de persoonsvorm op en schrijf de uitgang erachter.


- 1 Mama plaatst haar bagage achter in de auto.
- 2 Zij vergeet wat.
- 3 Mama vindt haar portemonnee boven op het dak!

Heb je een fout? Begin bij 
 Heb je alles goed? Begin bij  

 1 Schrijf de stam van de persoonsvorm op. Onderstreep de laatste letter.

- 1 Zij heet mevrouw Julia.
- 2 Ze woont helemaal alleen in het grote huis.
- 3 Ze zit uren in haar stoel te lezen.
- 4 Haar hond Fik ligt dan aan haar voeten te slapen.
- 5 Ze tikt altijd tegen het raam naar Hans.
- 6 En dan zwaait ze lachend naar Hans met een beverige hand.

Dit ga je leren

Je leert hoe het komt dat je persoonsvormen die eindigen op de klank  schrijft met -t, -d of -dt.

Dit moet je weten

De persoonsvorm van de hij-vorm in de tegenwoordige tijd is **stam + t**.

Als de **stam** eindigt op -t, komt er geen -t in de hij-vorm bij.

onderwerp	tegenwoordige tijd
ik, ... jij?	vind fluit
jij, u, hij , zij, het	vind + t fluit



☆☆ **2 a** Schrijf de stam van de persoonsvorm op en schrijf de uitgang erachter.

Let op: in zin 2 en 5 staan er twee.

1 Marks oma Dora houdt van de stilte.

Doe het zo: *1 houd + t*

- 2 Daarom zwijgt ze liever dan dat ze praat.
- 3 Zelfs nee zeggen, vindt ze soms al te veel.
- 4 Dan schudt ze alleen maar een beetje met haar hoofd.
- 5 Als ze mij groet, geeft ze me een olijke knipoog.
- 6 Maar Mark antwoordt altijd gewoon met 'dag oma Dora'.

b Kijk naar je antwoorden. Bij welke werkwoorden komt er geen uitgang achter de stam?

☆☆ **3** Schrijf de zin in de hij-vorm.

1 Ik sluit mijn ogen.

Doe het zo: *1 Hij sluit zijn ogen.*

- 2 Ik verslind zo zes boterhammen.
- 3 Ik spring op, sprint weg en glijd uit.
- 4 Ik eet alleen dat waarvan ik houd.
- 5 Ik overdrijf niet.
- 6 Ik houd hem vast.



Goed of fout?
Een werkwoord waarvan de stam niet eindigt op een -d, kan nooit eindigen op -dt.